

Mathématiques – Séance du lundi 29 juin 2020

Les exercices proposés sont dans la continuité des activités réalisées lors de l'émission d'aujourd'hui.

CALCUL MENTAL

Calcule mentalement ces additions (sans poser l'opération) :


- a. $45 + 28$
- b. $16 + 32$
- c. $74 + 19$
- d. $52 + 38$
- e. $65 + 16$
- f. $75 + 15$

NOMBRES

Donne l'écriture en lettres, et en chiffres de ces nombres :
















- 2d et 15u :
- 5d et 10u :
- 7u et 3d :
- 8d et 17u :

DEPLACEMENT SUR UN QUADRILLAGE

13	14	15	16	17	18
23	24	25	26	27	28
33	34	35	36	37	38
43	44		46	47	48
53	54	55	56	57	58
63	64	65	66	67	68
73	74	75	76	77	78
83	84	85	86	87	88

A partir de cette grille, suis les programmes et indique sur quelle case arrivera Monkey :

a.					
----	---	---	---	--	---

b.					
c.					
d.					

PROBLEMES DU JOUR ET PROBLEME SUPPLEMENTAIRE

Problèmes du jour :

Hier, tu as rangé 50 jouets dans ton placard qui était vide.
 Ce matin, tu en as rangé 20 autres.
 Et ce midi, tu en as retrouvé et rangé encore 10.
 Combien de jouets sont maintenant rangés dans ton placard ?

Hier, tu as rangé 38 jouets dans ton placard qui était vide.
 Ce matin, tu en as rangé 24 autres.
 Et ce midi, tu en as retrouvé et rangé encore 17.
 Combien de jouets sont maintenant rangés dans ton placard ?

Hier, tu as rangé 23 jouets dans ton placard qui était vide.
 Ce matin, tu en as rangé 27 autres.
 Mais ce midi, tu en as sorti 3 pour les prêter à ta sœur.
 Combien de jouets sont maintenant rangés dans ton placard ?

Problème supplémentaire :

Hier, tu as rangé 36 jouets dans ton placard qui était vide.
 Ce matin, tu en as rangé 17 autres.
 Mais ce midi, tu en as sorti 14 pour les prêter à ta sœur.
 Combien de jouets sont maintenant rangés dans ton placard ?