

Vendredi 19 juin



Mathématiques


CE2

Géométrie flash


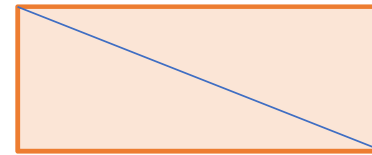
Le jeu du portrait



Dessine à main levée les figures



La figure est formée d'un rectangle et d'un carré. Ils ont un côté en commun.
Le carré est à l'extérieur du rectangle.



La figure est formée d'un rectangle et d'un triangle rectangle.
Les sommets du triangle rectangle sont des sommets du rectangle.

Calcul mental

Réviser les tables de multiplication



Complète cette table de multiplication

x	7		9	5
8				
4				
	14			
6		36		

Calcul réfléchi et posé

La multiplication



Calcul posé de la multiplication

$$43 \times 16$$

40

3

10

6

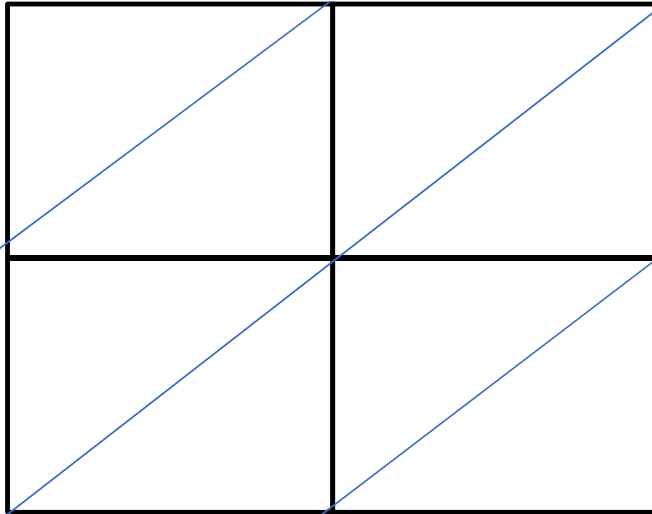


Calcul posé de la multiplication

7

2

$$72 \times 84$$



8

4



Calcul posé de la multiplication

$$276 \times 33$$

$$\begin{array}{r} 276 \\ \times 33 \\ \hline \end{array}$$

Problème

Dans la classe des CE2 B, un relais natation quatre fois cinquante mètres est organisé.

L'équipe des sirènes a réalisé les performances suivantes :

Ali : 1 min 24 s ; Béatrice : 1 min 48 s ; Charles : 1 min 12 s ; Diane : 1 min 5 s.

Quel est le temps réalisé par l'équipe des sirènes ?



Les sirènes ont réalisé le relais en 5 min 29s.