

Mathématiques CE2 – Séance du vendredi 17 avril 2020

Les exercices proposés sont dans la continuité des activités réalisées lors de l'émission d'aujourd'hui.

Ne pas hésiter à regarder la fiche du mercredi 15 avril pour retrouver des explications pour le calcul réfléchi et du matériel pour la numération.

CALCUL RÉFLÉCHI : TABLES D'ADDITION

CALCULS POUR S'ENTRAÎNER


Faire les calculs suivants le plus rapidement possible.

- $7 + 8$
- $8 + 3$
- $19 + 5$
- $37 + 47$
- $48 + 3$
- $156 + 27$
- $87 + 18$
- $257 + 112$
- $125 + 25$
- $82 + 86$


NUMÉRATION : DÉNOMBRER DES COLLECTIONS

Écrire en chiffres le nombre de petits cubes en tout.

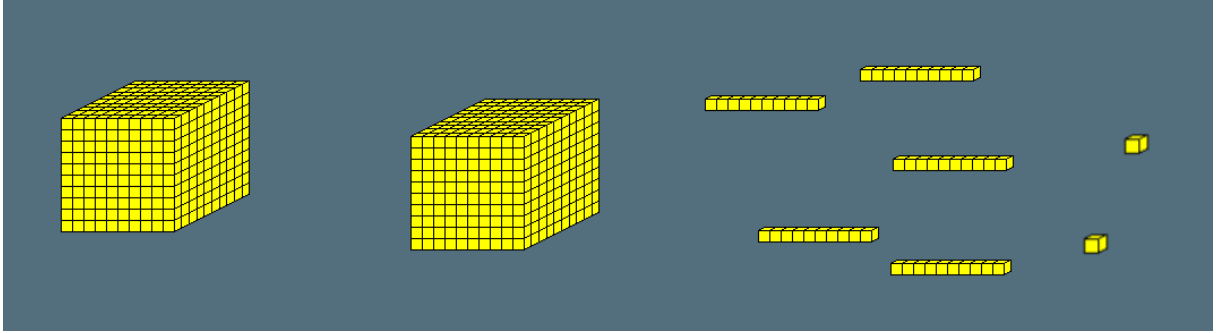
1)



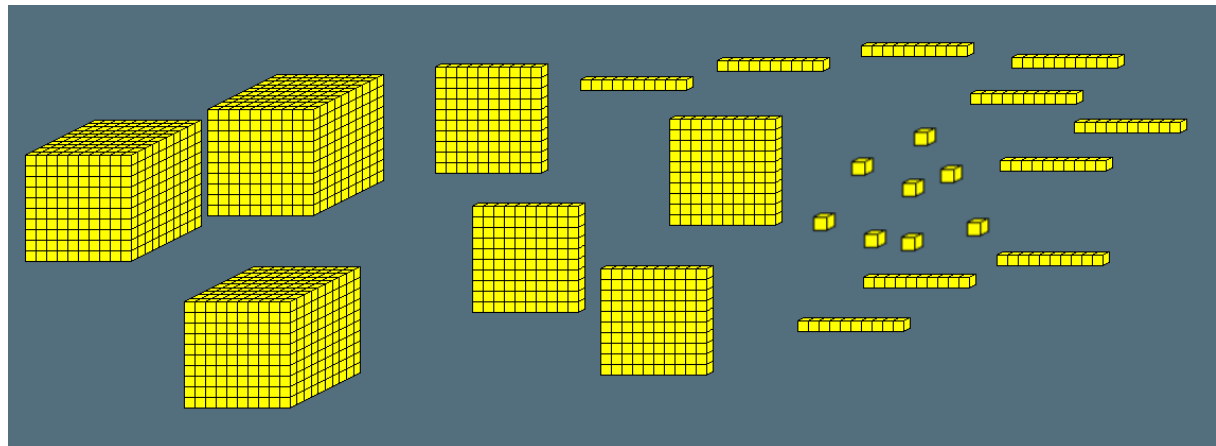
2)



3)



4)



PROBLÈMES

Le problème n°1 proposé est identique à celui travaillé pendant l'émission. Seuls les nombres changent.

Le problème n°2 est le problème qui était à faire à la maison.

Problème n°1 (à proposer à l'oral, sans support de l'énoncé écrit) :

Dans un panier, il y a 43 bananes et le double de pommes. Combien y a-t-il de fruits dans ce panier ?

Problème n°2

Dans la bibliothèque du collège, il y a 1865 livres. Il y a 698 romans policiers, 462 bandes dessinées. Les autres sont des livres documentaires. Combien y a-t-il de livres documentaires ?