


Lundi 30 mars

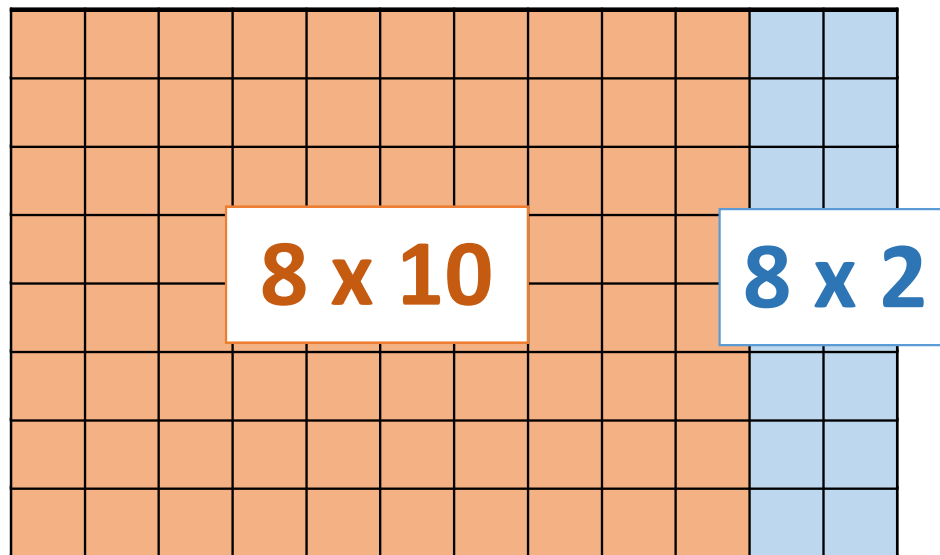


Calcul mental

La multiplication

$$12 \times 31$$

$$8 \times 12$$



distributivité

La multiplication

Calcule 7×12

84

La multiplication

Calcule 6×14

84

La multiplication

Calcule 5×35

175

La multiplication

Calcule 16×6

96

Nombres

Les fractions



Les fractions



Les fractions

une unité

$$\frac{1}{2}$$

$$\frac{1}{2}$$

$$\frac{1}{3}$$

$$\frac{1}{3}$$

$$\frac{1}{3}$$

$$\frac{1}{4}$$

$$\frac{1}{4}$$

$$\frac{1}{4}$$

$$\frac{1}{4}$$

$$\frac{1}{5}$$

$$\frac{1}{5}$$

$$\frac{1}{5}$$

$$\frac{1}{5}$$

$$\frac{1}{5}$$


Les fractions



une unité



?



?



?

numérateur

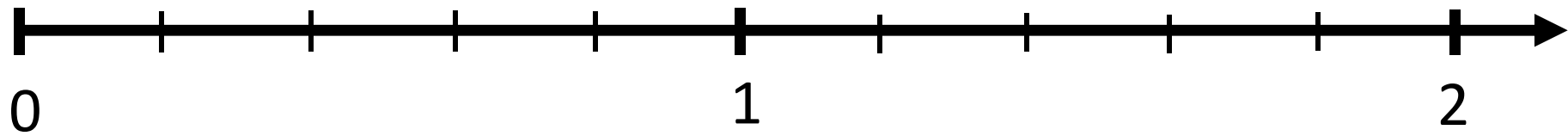
4

—

3

dénominateur

Les fractions



Place sur la demi-droite graduée : $\frac{1}{5}$ et $\frac{3}{5}$

Problèmes

Première situation

Lucas avait 254 images. Il en a gagné 148.
Combien a-t-il d'images à présent ?

Deuxième situation

Dans la bibliothèque de l'école, il y a 137 romans,
224 bandes dessinées et 128 documentaires.
Combien cela fait-il de livres en tout ?

Troisième situation

Lucie avait 310 perles. Elle en a utilisé 135 pour faire des colliers.
Combien lui reste-t-il de perles ?

Situation pour plus tard

Dans la ferme de M. Bertrand, 390 poussins sont éclos lundi, 216 mardi et 345 mercredi.

Combien y a-t-il de poussins à la fin de ces trois jours ?