


Jeudi 02 avril 2020



Calcul mental

Additionner des nombres
inférieurs à 100

$$36 + 26 =$$

$$48 + 28 =$$

$$23 + 47 =$$

$$57 + 17 =$$

$$64 + 36 =$$

Nombres

Le tableau des nombres

| 0 | 1 | 2 | 3 | 4 | 5 | 6 | 7 | 8 | 9 |
|----|----|----|----|----|----|----|----|----|----|
| 10 | 11 | 12 | 13 | 14 | 15 | 16 | 17 | 18 | 19 |
| 20 | 21 | 22 | 23 | 24 | 25 | 26 | 27 | 28 | 29 |
| 30 | 31 | 32 | 33 | 34 | 35 | 36 | 37 | 38 | 39 |
| 40 | 41 | 42 | 43 | 44 | 45 | 46 | 47 | 48 | 49 |
| 50 | 51 | 52 | 53 | 54 | 55 | 56 | 57 | 58 | 59 |
| 60 | 61 | 62 | 63 | 64 | 65 | 66 | 67 | 68 | 69 |
| 70 | 71 | 72 | 73 | 74 | 75 | 76 | 77 | 78 | 79 |
| 80 | 81 | 82 | 83 | 84 | 85 | 86 | 87 | 88 | 89 |
| 90 | 91 | 92 | 93 | 94 | 95 | 96 | 97 | 98 | 99 |

Dire la suite des nombres , sans regarder le tableau,
de 1 en 1 de 60 à 79.
de 1 en 1 de 80 à 99.




Dire le nombre qui suit un nombre donné.

| | | | | | | | | | |
|----|----|----|----|----|----|----|----|----|----|
| 80 | 81 | 82 | 83 | 84 | 85 | 86 | 87 | 88 | 89 |
| 90 | 91 | 92 | 93 | 94 | 95 | 96 | 97 | 98 | 99 |



-Dire le nom d'un nombre montré.

-Montrer le nombre nommé.


Trouve le nombre de crayons de couleurs.



Trouve le nombre de crayons de couleurs.



Trouve le nombre de crayons de couleurs.



Écris en chiffres :

$$7d + 5u$$

$$3d + 16u$$


$$5u + 8d$$

$$4d + 2d$$

Problèmes

Première situation


Kevin reçoit 12 crayons de couleurs en cadeau. Il en a maintenant 24.
Combien en avait-il avant de recevoir son cadeau ?



Deuxième situation

Kevin reçoit 42 crayons de couleurs en cadeau. Il en a maintenant 64.


Combien en avait-il avant de recevoir son cadeau ?



Troisième situation

Kevin reçoit 30 crayons de couleurs en cadeau. Il en a maintenant 70.

Combien en avait-il avant de recevoir son cadeau ?




Pour les CE1 seulement

Première situation

Ce matin, un marchand a reçu sa commande de 324 crayons de couleurs pour son magasin. Il en a maintenant 632.

Combien en avait-il avant de recevoir sa commande ?



Pour plus tard

À midi, la boulangère sort du four 217 baguettes. Elle en a maintenant 434.

Combien en avait-elle avant midi ?

