



PROBLÉMATIQUE DE L'ACTIVITÉ

« le phénomène migratoire : un processus ancien et continu : approche géo-historique »

SUPPORT

Vidéo et texte 3 « Histoire des migrations », Virginie Chaillou-Atrous, 2020

FEUILLE DE TRAVAIL N° 1 :

Comment les grandes migrations s'inscrivent-elles dans chacune des quatre grandes périodes historiques ?

- 1°- A partir du texte (et/ou de la vidéo), complétez la frise chronologique en y indiquant les quatre grandes périodes historiques évoquées.
- 2°- A l'aide de votre manuel scolaire ou de vos connaissances, vous bornerez chaque grande période de l'histoire (date de début et de fin) en précisant l'événement associé.
- 3°- A l'aide du texte, complétez chacun des planisphères en cartographiant les migrations correspondant à chacune des périodes historiques.

FEUILLE DE TRAVAIL N°2 :

Quelles sont les grandes migrations au Moyen-Âge ?

- 1°- A l'aide de votre manuel, indiquez les bornes de début et de fin du Moyen-Âge (date et événement associés).
- 2°- Placez sur la frise ci-dessous les siècles correspondant au chapitre « La Méditerranée médiévale » et écrivez le nom de ce chapitre.
- 3°- A l'intérieur de la frise, figurez les migrations principales évoquées dans le texte.
- 4°- Sur la carte, reportez ces migrations en n'oubliant pas ni le titre, ni la légende. Apportez du soin à cette réalisation.

FEUILLE DE TRAVAIL N°3 :

Quelles sont les grandes migrations à l'époque moderne ?

- 1°- A l'aide de votre manuel, indiquez les bornes de début et de fin de l'époque moderne (date et événement associés).
- 2°- Placez sur la frise ci-dessous les siècles correspondant aux chapitres « L'ouverture atlantique » ; « Renaissance, humanisme et réforme » et écrivez le nom de ces chapitres.
- 3°- A l'intérieur de la frise, figurez les migrations principales évoquées dans le texte au cours de l'époque moderne.
- 4°- Sur le planisphère, reportez ces migrations en n'oubliant ni le titre ni la légende. Apportez du soin à cette réalisation.

FEUILLE DE TRAVAIL N°4 :

Quelles sont les grandes migrations à l'époque contemporaine ?

- 1°- A l'aide de votre manuel, indiquez la borne de début de l'époque contemporaine (date et événement associés).
- 2°- Procédez au découpage de la frise en choisissant l'échelle adéquate.
- 3°- A l'intérieur de la frise, figurez les migrations principales évoquées dans le texte au cours des XIX^e et XX^e siècles.
- 4°- Sur le planisphère, reportez ces migrations en n'oubliant ni le titre ni la légende. Apportez du soin à cette réalisation.

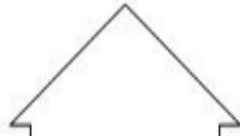
Feuille de travail n° 1 : Comment les grandes migrations s'inscrivent-elles dans chacune des quatre grandes périodes historiques ?

- 1° - A partir du texte (et/ou de la vidéo), complétez la frise chronologique en y indiquant les quatre grandes périodes historiques évoquées.
- 2° - A l'aide de votre manuel scolaire ou de vos connaissances, vous bornerez chaque grande période de l'Histoire (date de début et de fin) en précisant l'évènement associé.
- 3° - A l'aide du texte, complétez chacun des planisphères en cartographiant les migrations correspondant à chacune des périodes historiques.

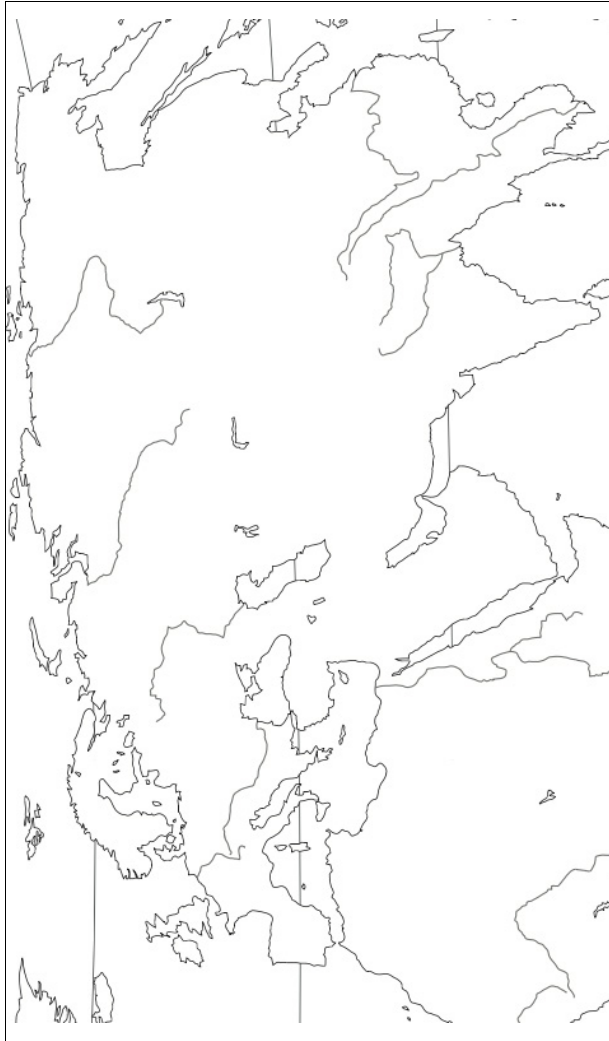
The worksheet is divided into two main sections. On the left, there is a vertical timeline represented by a large upward-pointing arrow. Four red arrows point from the timeline to four world maps on the right. Each map is labeled with 'Légende :'. The maps are intended for mapping historical migrations corresponding to the four periods of history mentioned in the instructions.

Feuille de travail n°2 : Quelles sont les grandes migrations au Moyen Âge ?

- 1°- A l'aide de votre manuel, indiquez les bornes de début et de fin du Moyen-Âge (date et événement associés).
- 2°- Placez sur la frise ci-dessous les siècles correspondant au chapitre « La Méditerranée médiévale » et écrivez le nom de ce chapitre.
- 3°- A l'intérieur de la frise, figurez les migrations principales évoquées dans le texte.
- 4°- Sur la carte, reportez ces migrations en n'oubliant pas ni le titre, ni la légende. Apportez du soin à cette réalisation.



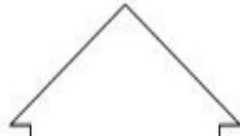
Titre :



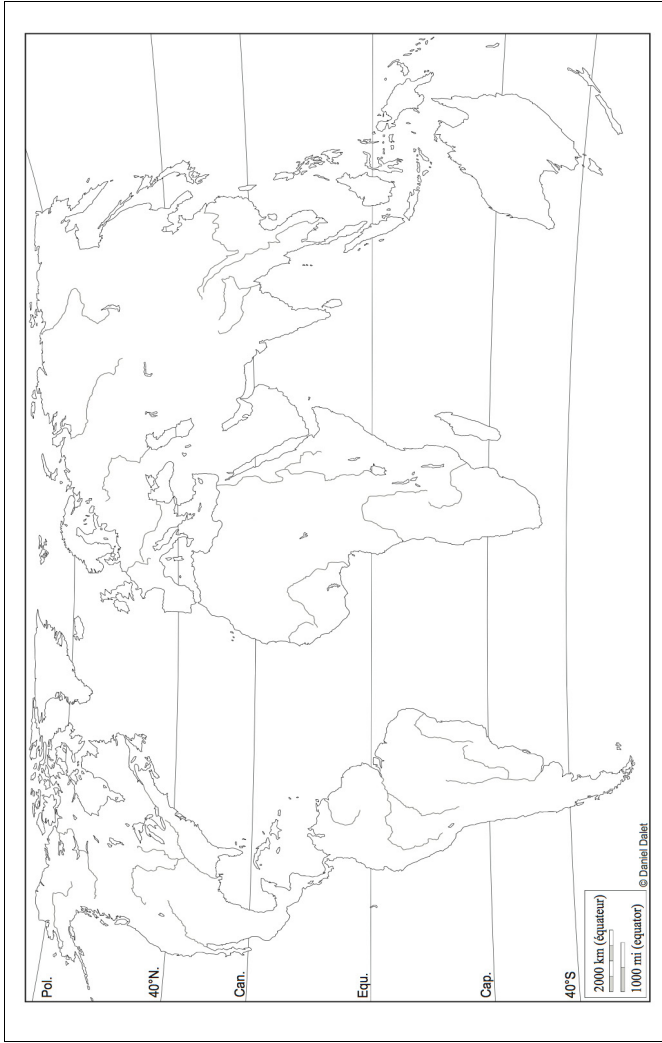
Légende :

Feuille de travail n°3 : Quelles sont les grandes migrations à l'époque moderne ?

- 1°- A l'aide de votre manuel, indiquez les bornes de début et de fin de l'époque moderne (date et événement associés).
- 2°- Placez sur la frise ci-dessous les siècles correspondant aux chapitres « L'ouverture atlantique » ; « Renaissance, humanisme et réforme » et écrivez le nom de ces chapitres.
- 3°- A l'intérieur de la frise, figurez les migrations principales évoquées dans le texte au cours de l'époque moderne.
- 4°- Sur le planisphère, reportez ces migrations en n'oubliant pas le titre et la légende. Apportez du soin à cette réalisation.




Titre :



Légende :

Feuille de travail n°4 : Quelles sont les grandes migrations à l'époque contemporaine ?

- 1°- A l'aide de votre manuel, indiquez la borne de début de l'époque contemporaine (date et événement associés).
- 2°- Procédez au découpage de la frise en choisissant l'échelle adéquate.
- 3°- A l'intérieur de la frise, figurez les migrations principales évoquées dans le texte au cours des XIXème et XXème siècles.
- 4°- Sur le planisphère, reportez ces migrations en n'oubliant pas le titre et la légende. Apportez du soin à cette réalisation.



Titre :



Légende :