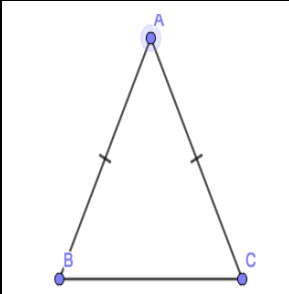
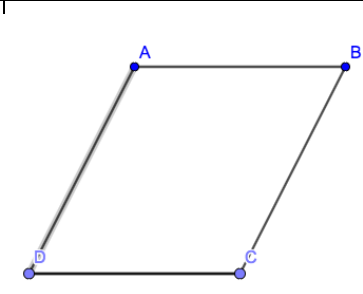
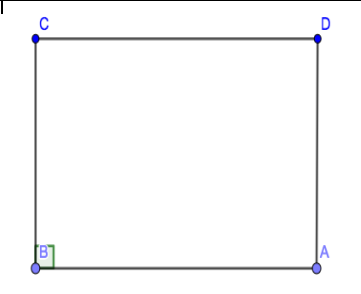
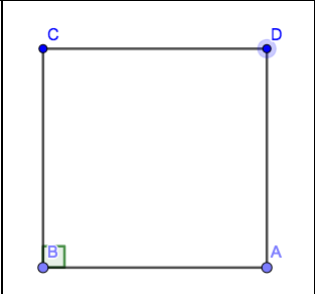


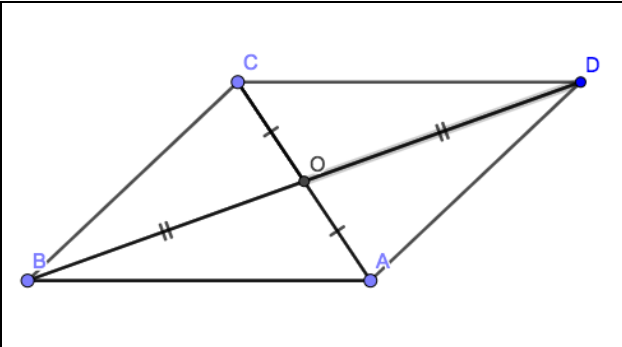
Symétrie centrale. Niveau 5^e

Exercice 1

Pour chacune des figures ci-dessous, dire pour chacune d'elles si elle a un ou plusieurs axes de symétrie (et les tracer), un ou plusieurs centres de symétrie (et les préciser) :

			
Triangle isocèle	Parallélogramme	Rectangle	Carré

Exercice 2

	<p>B est le symétrique de ... par rapport à ...</p> <p>... est le symétrique de [DA] par rapport à O.</p>
---	---

Exercice 3

Ecrire sous chaque point le nom de son symétrique par rapport à O.

B	J	G	C	H	K	O	P

Exercice 4

Reproduire chaque figure ci-dessous, et tracer la figure symétrique par rapport à O.

Exercice 5

Colorie à ta guise le demi mandala ci-dessous, puis complète le dans la symétrie de centre O.

